

令和 2 年度
四天王寺東高等学校入学試験問題

社 会

注意 答はすべて解答用紙に書きなさい。

- 1 2020年は、東京オリンピックが開催される年です。世界の国々が東京に集まり交流が盛んに行われます。そこで、日本と外国との関わりと、国内の歴史について下の略年表にまとめました。後の各問いに答えなさい。

世紀	日本と外国との関わり	日本国内のできごと
1世紀	倭の（ I ）の王が漢に使いを送り、皇帝が金印を与える。	<p>蘇我氏が物部氏を滅ぼす。 厩戸皇子が十七条の憲法を定める。</p> <p>壬申の乱が起こる。</p> <p><u>a 大宝律令</u>を定める。</p> <div style="border: 1px solid black; width: 100px; height: 100px; margin: 10px auto; text-align: center; line-height: 100px;">B</div> <p>承久の乱が起こる。 応仁の乱が始まる。</p>
3世紀	卑弥呼が魏に使いを送る。	
5世紀	倭王が南朝に使いを送る。	
6世紀	百済から仏教が伝わる。	
7世紀	ヤマト王権が、小野妹子を隋に遣わす。	
	<div style="border: 1px solid black; width: 80px; height: 30px; margin: 0 auto;">A</div>	
	白村江の戦いが起こる。	
8世紀	鑑真が唐から来日する。	
9世紀	<u>b 最澄</u> 、空海が唐で学んだ新しい仏教の教えを広める。	
	遣唐使を廃止する。	
12世紀	日宋貿易が盛んになる。	
13世紀	<u>c 元</u> が襲来する。	
15世紀	<u>d 日明貿易</u> が始まる。	
16世紀	鉄砲が伝来する。	
17世紀	ポルトガル人の来航を禁止する。	
	<div style="border: 1px solid black; width: 80px; height: 30px; margin: 0 auto;">C</div>	
19世紀	<u>e 日米修好通商条約</u> を結ぶ。	

- (1) (I) に当てはまる国名を、次のア～ウから1つ選び、記号で答えなさい。

ア 奴国 イ 邪馬台国 ウ 出雲国

(2) **A**の時期に起こった国内外の出来事について説明した文章として正しいものを、次のア～ウから1つ選び、記号で答えなさい。

- ア 中大兄皇子や中臣鎌足らは、蘇我蝦夷・入鹿を倒して政権を握った後、都を藤原京に移した。
- イ 九州北部に防人という兵士をおき、朝鮮式山城や水城を築き、中国や朝鮮半島からの侵攻にそなえた。
- ウ 中国では唐がおこり、日本から遣唐使が派遣された。

(3) 下線部 a で定めた政治の仕組みや、税負担について述べた説明文のうち誤っているものを、次のア～ウから1つ選び、記号で答えなさい。

- ア 政治の組織として、中央には二官八省の役所が置かれ、諸国を治める国司には地元の豪族が任命された。
- イ 租とは、6歳以上の男女に与えられた口分田から、収穫した稲の約3%を納めることである。
- ウ 雑徭とは、成年男子が国司のもとで、1年に60日以内の労働をおこなうことである。

(4) 下線部 b の人物が比叡山に開いた寺院を、漢字で答えなさい。

(5) **B**の時期に起こった次の出来事 a～c を、古い順に並べ替えた組み合わせとして正しいものを、下のア～カから1つ選び、記号で答えなさい。

- a 国ごとに国分寺・国分尼寺を建て、奈良では東大寺の大仏をつくった。
- b 寝殿造りの公家の邸宅や、平等院鳳凰堂が建てられた。
- c 東大寺南大門が建てられ、運慶・快慶らによって金剛力士像がつくられた。

- ア a-b-c イ a-c-b ウ b-a-c
- エ b-c-a オ c-a-b カ c-b-a

(6) 下線部 c について、当時の元の皇帝と幕府の執権との組み合わせとして正しいものを、次のア～ウから1つ選び、記号で答えなさい。

- ア 元：チンギス＝ハン、幕府：北条時政
- イ 元：フビライ＝ハン、幕府：北条時宗
- ウ 元：フビライ＝ハン、幕府：北条泰時

(7) 下線部 d について、明からの輸入品として正しいものを、次のア～オから2つ選び、それぞれ記号で答えなさい。

- ア 砂金 イ 刀剣 ウ 陶磁器 エ 硫黄 オ 生糸

(8) C の時期に起こった出来事を説明した文章として誤っているものを、次のア～オから2つ選び、記号で答えなさい。

- ア 江戸・大阪・京都は三都とよばれ、特に大阪は商業都市として栄え、木綿・酒・しょう油・菜種油などが江戸から大阪に送られた。
- イ 5代将軍徳川綱吉は、財政難を切り抜けるため、金貨の質を落とし通貨量を増やしたが、物価が上がり、庶民の暮らしは苦しくなった。
- ウ 老中の田沼意次は、株仲間を認めて営業を独占させ、その代わりに税を納めさせるなど商人との結びつきを強くし、幕府の財政安定を図ろうとしたが、政治は乱れた。
- エ この時期の農村では、貨幣経済が浸透し、地主の中には百姓に道具や材料を貸して布を織らせ、出来高に応じて賃金を支払う工場制手工業のしくみが現われた。
- オ 老中の水野忠邦は、倹約をすすめると共に、株仲間を解散させ物価の引き下げをはかった。

(9) 下線部 e の条約が結ばれた時期より以後に起こった世界の出来事として正しいものを、次のア～ウから1つ選び、記号で答えなさい。

- ア アヘン戦争後、洪秀全は満州族の清をたおし、漢民族の国をつくろうとして太平天国の乱を起こした。
- イ フランスでは、フランス革命が起こり自由・平等の権利を認め、国民が政治を行う権限を記した「人権宣言」を発表した。
- ウ アメリカ合衆国では、保護貿易と奴隷制度の廃止を主張する北部と、自由貿易と奴隷制度維持を主張する南部が対立し、南北戦争が始まった。その結果、リンカーン大統領は奴隷解放宣言を発表し、北部が勝利した。

2 次の文章を読み、後の各問いに答えなさい。

明治政府は、新しい政治方針を国内外に示しました。そして、江戸を東京に改称し、 I をスローガンにかかげて急速な近代化を推し進めました。その結果、a 日清戦争前後には b 軽工業が、日露戦争前後には鉄鋼などの重工業の分野で産業革命がすすみました。産業の発達によって労働者が増加すると、それにともない c 社会運動も発生し、公害事件も問題になりました。

大正時代は、d 第一次世界大戦を背景に、東京や大阪には人口が集中し、大都市となりました。そこで暮らす人々の生活様式も大きく変化し、文化や娯楽が商品として大量生産される時代になりました。

しかし、大正末期の関東大震災などの影響もあって不景気が続きました。さらに、昭和初期に起こった世界恐慌の影響は日本にもおよび、経済の落ち込みは深刻なものとなりました。そのころ、中国で起こった国家統一運動は、日本が利権を持つ II にまでおよび、軍部ではそれを中国と切り離して領有しようと、柳条湖事件を起こすものも現われました。

(1) 文中の に当てはまる語句を次から 1 つ選び、記号で答えなさい。

ア 富国強兵 イ 国民皆学 ウ 四民平等

(2) 下線部 a に関連する次の出来事のうち、この戦争直前に起こったことはどれか、正しいものを、次のア～ウから 1 つ選び、記号で答えなさい。

ア 下関での講和会議 イ 義和団事件 ウ 甲午農民戦争

(3) 下線部 b について、渋沢栄一が設立にかかわった 1872 年に建てられた軽工業の施設として正しいものを、次のア～ウから 1 つ選び、記号で答えなさい。

ア 八幡製鉄所 イ 大阪紡績会社 ウ 富岡製糸場

(4) 下線部 c について、明治時代の社会運動と関係の無いものを、次のア～ウから 1 つ選び、記号で答えなさい。

ア 青鞮社の結成 イ 新婦人協会の結成 ウ 大逆事件の発生

(5) 次の図は、下線部 d が始まる直前の国際関係をあらわしています。A・B に当てはまる国の組み合わせとして正しいものを、下のア～エから 1 つ選び、記号で答えなさい。

= , ,

= , ,

ア A ロシア B オーストリア
イ A オーストリア B ロシア
ウ A アメリカ B ロシア
エ A ロシア B アメリカ

(6) 文中 に当てはまる地名を、漢字 2 字で答えなさい。

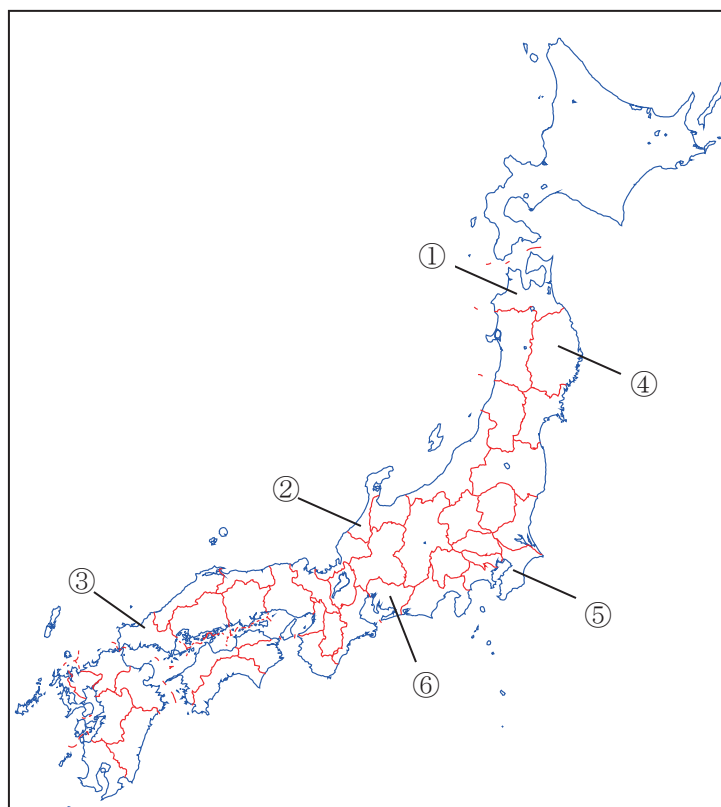
- 3 日本では、2019年9月20日から約1か月半の期間、ラグビーのワールドカップ大会が開催された。次の資料は、その試合が行われた県や都市の一部を紹介したものである。これを見て、後の各問いに答えなさい。

県または都市	会 場	各県または都市の PR
北海道 a 札幌市	札幌ドーム	札幌市は人口 195 万人の規模を誇りながら豊かな自然にも恵まれ、「都市」と「自然」がほどよく調和した街で、ラーメンなどのグルメや、大通公園、時計台など魅力に溢れた観光名所がたくさんあります。
岩手県 釜石市	釜石 ^{うのすまい} 鶴住居復興スタジアム	釜石市は震災後、復興まちづくり計画に基づき「三陸の大地に光輝き、希望と笑顔があふれるまち釜石」の実現を目指して「たわまず屈せず」の合言葉で市民一丸となり全力で取り組んでおります。2015年に当市の b 橋野鉄鉱山を含む「明治日本の産業革命遺産」が世界遺産に登録され、そして今回の開催地の一つに選ばれました。復興した活気あるまち釜石へどうぞお越しください。
静岡県	小笠山総合運動公園エコパスタジアム	静岡県は、 <input type="text" value="c"/>
愛知県 豊田市	豊田スタジアム	d 愛知県は自動車産業や、国内初のジェット旅客機の生産を始めとした航空宇宙産業などが高度に集積するとともに、豊かな自然にも恵まれた地域です。また、織田信長や豊臣秀吉らを輩出した地域であり、サムライ文化を始めとする伝統にも恵まれています。豊田市は「クルマのまち」として知られる一方で、豊かな自然をはじめとする豊富な地域資源をもつ魅力あふれるまちです。
大阪府 東大阪市	東大阪市花園ラグビー場	大阪府は、古くから水の都として知られ、文楽などの伝統芸能を有し、歴史と文化に恵まれた都市です。また、大阪湾にある <input type="text" value="e"/> 空港によって世界各地と結ばれており、アクセスに優れています。東大阪시는ラグビーのまち、技術力の高いモノづくり、情緒ある歴史・文化、さらには食文化の堪能できるまちです。
熊本県 熊本市	熊本県民総合運動公園陸上競技場	熊本県は f 九州地方の中央に位置し、日本三名城に数えられる熊本城、千年の草原が広がる阿蘇山のほか、世界遺産に登録された三池炭鉱万田坑や三角西港、イルカウォッチングが人気の天草などの観光資源が豊富です。

「ラグビーワールドカップ 2019 日本大会」公式ホームページを元に作成

(1) 右の地図を見て、「岩手県」、「愛知県」の位置の組み合わせとして正しいものを、次のア～エから1つ選び、記号で答えなさい。

- ア 岩手県 － ① 愛知県 － ③
- イ 岩手県 － ④ 愛知県 － ⑥
- ウ 岩手県 － ② 愛知県 － ⑤
- エ 岩手県 － ③ 愛知県 － ④



(2) 下線部 a について、「札幌」のように、県庁所在地名が都道府県名と異なるものを、次のア～エから1つ選び、記号で答えなさい。

- ア 宮城県 イ 福井県
- ウ 宮崎県 エ 福島県

(3) 下線部 b について、次の①、②の問いに答えなさい。

① 岩手県には、「明治日本の産業革命遺産」以外にも、もう一つ世界遺産に登録されている建築物がある。その建築物は何か、次のア～エから1つ選び、記号で答えなさい。

- ア 中尊寺金色堂 イ 姫路城 ウ 大浦天主堂 エ 春日大社

② この遺産があるように、かつて日本でも鉄鉱石は産出されていたが、現在はほぼ輸入に頼っている状況である。日本における鉄鉱石の輸入相手国上位4ヶ国およびその割合（2017年）を示した資料として正しいものを、次のア～エから1つ選び、記号で答えなさい。

ア	インド 44.4 ベルギー 18.9 イスラエル 11.2 (香港) 9.3
イ	サウジアラビア 40.2 アラブ首長国連邦 24.5 カタール 7.4 クウェート 6.9
ウ	オーストラリア 51.7 ブラジル 29.3 カナダ 6.7 南アフリカ 3.4
エ	チリ 38.3 ペルー 15.3 オーストラリア 12.5 インドネシア 11.6

※ () で示したものは、都市名、地域名などを表している
(「2019 データブック オブ ザ ワールド」より作成)

(4) **c** について、静岡県の PR 文として正しいものを、次のア～エから 1 つ選び、記号で答えなさい。

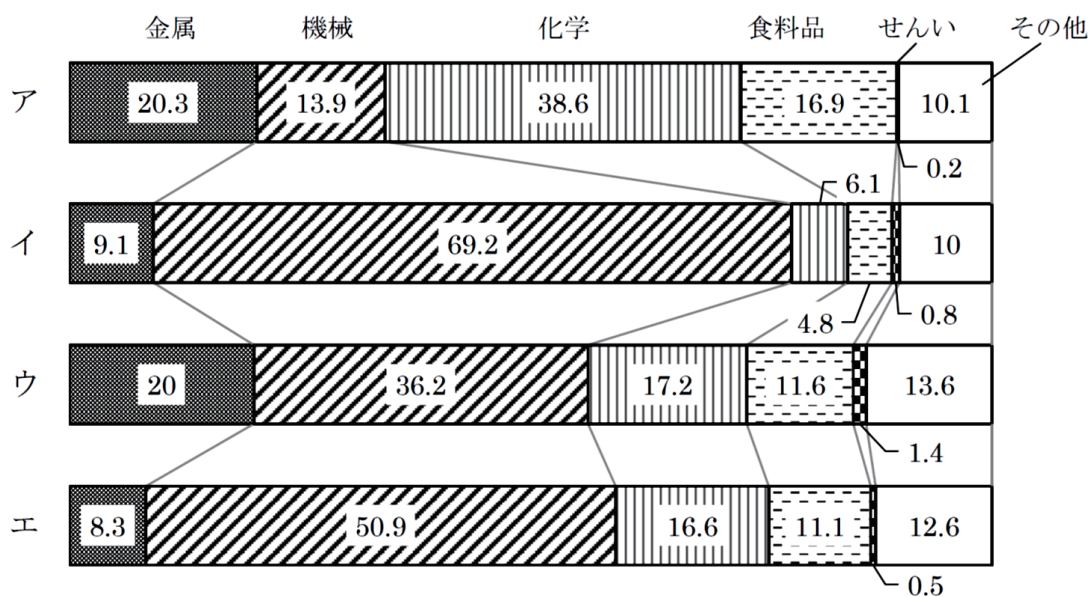
ア 海と山に囲まれた自然が豊かな港町として親しまれており、日本新三大夜景として認定された 1000 万ドルの夜景は絶景です。様々な神社仏閣や有馬温泉、日本一の酒どころ灘など名所が多く、ブランド牛「神戸ビーフ」は世界的にも有名です。

イ 古都鎌倉、湘南の海や丹沢の山々、箱根や湯河原の温泉など、県全域にわたり魅力が満載です。試合日には観戦で盛り上がり、またオフ日には本県の多彩な魅力を存分に満喫してください。

ウ 象徴的な美しさを備えた富士山や南アルプス、浜名湖などの豊かな自然と伊豆半島の温泉などの観光資源を有するほか、^{にらやま} 韮山反射炉などの歴史的・文化的遺産も数多く有しています。

エ 日本一の源泉数、湧出量を誇る「日本一のおんせん県」。砂湯、蒸し湯、泥湯などバラエティ豊かです。皆さんはこれまで何種類の温泉につかったことがありますか？別府、由布院以外にも素晴らしい温泉がいくつもあります。

(5) 下線部 d について、次の図は、日本の工業地帯・工業地域の製造品出荷額などの割合（2016 年）を示したものである。このうち、愛知県をふくむ工業地帯はどれか、次のア～エから 1 つ選び、記号で答えなさい。



(「2019/20 日本国勢図会」より作成)

(6) **e** に入る語句を、漢字 4 字で答えなさい。

- (7) 下線部 f について、次の資料は、日本の4つの地方（東北、関東、四国、九州（沖縄は除く））の面積、人口および人口密度（2018年）をまとめたものである。このうち、九州地方（沖縄は除く）はどれか、次のア～エから1つ選び、記号で答えなさい。

	面積 (km ²)	人口 (千人)	人口密度 (人/km ²)
ア	32,433	43,358	1,336.9
イ	18,803	3,756	199.7
ウ	66,947	8,754	130.8
エ	42,231	12,863	304.6

（「2019/20 日本国勢図会」より作成）

- 4 右の表は、世界各国（アメリカ、中国、ドイツ、ブラジル、フランス、ベトナム）の国籍をもった人々の、日本に在留する人数（2017年）と日本に短期間滞在する人数（2017年）をまとめたものである。これを見て、後の各問いに答えなさい。

	日本に在留する人数 (千人)	日本に短期間滞在する人数 (千人)
アメリカ	55	1280
中国	730	4729
ドイツ	7	174
ブラジル	191	37
フランス	12	243
ベトナム	262	132

（「2019 データブック オブ ザ ワールド」より作成）

- (1) 次の①、②の文章の正誤の組み合わせとして正しいものを、下のア～エから1つ選び、記号で答えなさい。

- ① 日本に在留する人数、日本に短期間滞在する人数がともに2番目に多いのは、アメリカである。
 ② ヨーロッパ州に国籍を持つ人々は、他と比べるとあまり日本に在留していない。

- ア ① - 正 ② - 正 イ ① - 正 ② - 誤
 ウ ① - 誤 ② - 正 エ ① - 誤 ② - 誤

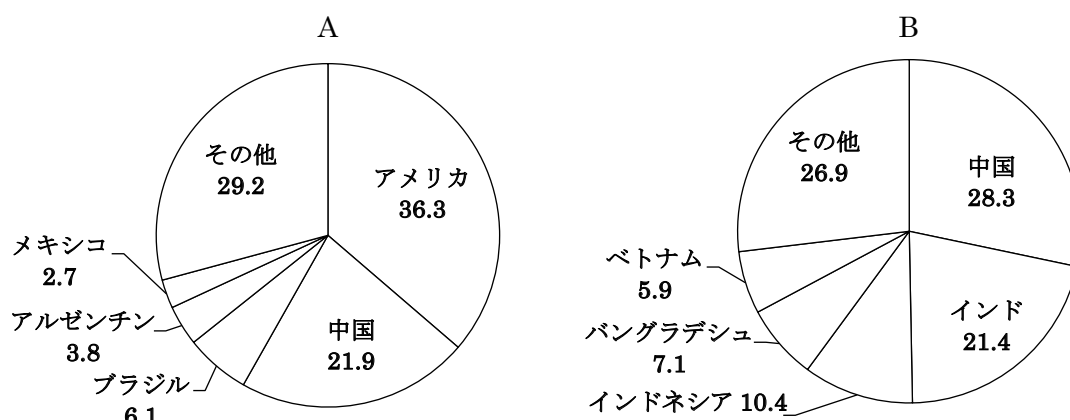
- (2) 次の資料 I は大陸ごとに気候帯別の面積の割合を示したものである。ア～エには、アフリカ、オーストラリア、北アメリカ、南アメリカのいずれかの大陸が入る。このうち、アメリカをふくむ北アメリカ大陸はどれか、1つ選び、記号で答えなさい。

<資料Ⅰ>

	熱帯	乾燥帯	温帯	冷帯	寒帯
ユーラシア	7.4	26.1	17.5	39.2	9.8
ア	5.2	14.4	13.5	43.4	23.5
イ	63.4	14.0	21.0	—	1.6
ウ	38.6	46.7	14.7	—	—
エ	16.9	57.2	25.9	—	—
南極	—	—	—	—	100.0

(3) 次の資料Ⅱはそれぞれ何の生産量の割合を示したものか、その組み合わせとして正しいものを、下のア～エから1つ選び、記号で答えなさい。

<資料Ⅱ>



(「2019 データブック オブ ザ ワールド」より作成)

- ア A - バナナ B - 茶 イ A - バナナ B - 米
 ウ A - とうもろこし B - 茶 エ A - とうもろこし B - 米

(4) 次の資料Ⅲは日本への輸出品上位5品目とその割合を示したものである。ア～エには、中国、ドイツ、ブラジル、フランスのいずれかが入る。このうちドイツはどれか、1つ選び、記号で答えなさい。

<資料Ⅲ>

	日本への輸出品上位5品目とその割合 (2018年)				
ア	鉄鉱石 42.1	肉類 11.5	コーヒー 5.9	有機化合物 5.1	鉄鋼 4.6
イ	機械類 46.3	衣類 10.1	金属製品 3.5	家具 2.4	がん具 2.2
ウ	機械類 26.2	自動車 24.3	医薬品 16.5	有機化合物 4.8	科学光学機器 4.6
エ	機械類 15.4	医薬品 14.8	ぶどう酒 8.4	航空機類 6.0	バッグ類 5.5

(「2019/20 日本国勢図会」より作成)

5 次の(1)～(8)の各問いに答えなさい。

(1) 次の表は、衆議院と参議院の違いに関するものである。空欄A・Bに当てはまる数字として正しいものを、下のア～エからそれぞれ1つずつ選び、記号で答えなさい。

	衆議院	参議院
定数	【 A 】人	248人
任期	4年	6年
選挙権	18歳以上	18歳以上
被選挙権	25歳以上	【 B 】歳以上

ア 465 イ 475 ウ 25 エ 30

(2) 衆議院の優越の内容として正しいものを、次のア～エから1つ選び、記号で答えなさい。

- ア 法律案の議決について、衆議院で可決し、参議院で異なった議決をした場合、衆議院が総議員の3分の2以上の多数で再可決した場合、法律となる。
- イ 条約の承認について、参議院で衆議院と異なった議決をした場合、両院協議会を開いても意見が一致しないとき、衆議院の議決が国会の議決となる。
- ウ 予算については、参議院が先議権をもっている。
- エ 内閣総理大臣の指名について、衆議院と参議院で異なる人物を指名した場合、衆議院の議決が直ちに国会の議決となる。

(3) 日本国憲法の規定で明記された内閣の権限として誤っているものを、次のア～エから1つ選び、記号で答えなさい。

- ア 自衛隊に対する最高指揮監督権 イ 政令の制定権
- ウ 予算の作成権 エ 外交関係の処理権

(4) 1府12省庁について、次の説明文に当てはまる省庁として正しいものを、下のア～エから1つ選び、記号で答えなさい。

【説明文】：「国民生活の保障・向上」と「経済の発展」を目指すために、社会福祉，社会保障，公衆衛生の向上・増進と，働く環境の整備，職業の安定・人材の育成を総合的・一体的に推進する。

ア 防衛省 イ 経済産業省 ウ 文部科学省 エ 厚生労働省

(5) 裁判員制度に関する内容として正しいものを、次のア～エから1つ選び、記号で答えなさい。

ア 2012年5月から導入された。

イ 対象事件は、裁判所で行われる刑事裁判全般である。

ウ 裁判員は、選挙権のある満20歳以上の男女から、くじ引きで選出される。

エ 裁判員は、被告人が有罪か無罪かを決め、有罪の場合にどのような刑罰を下すかは裁判官が行なう。

(6) 為替相場の影響について、次の①、②の問いに答えなさい。

① 次の文章を読み、空欄に当てはまる語句を答えなさい。

円と外国通貨の交換比率である為替相場は、例えば「1ドル=100円」というようにあらわす。この値は、需要と供給が一致するところで決まる。ドルが値下がりして、1ドル=90円になった場合、円を持っている人から見れば、100円だったドルを90円で買うことができる。このように、外国通貨に対して円の価値が上がることを【 円安 or 円高 】という。

② 次の表を見て、空欄A・Bに当てはまる数字を、下のア～エからそれぞれ1つずつ選び、記号で答えなさい。

～日本からアメリカへ自動車を輸出する場合～

為替相場	1ドル=100円の時	1ドル=75円の時	1ドル=120円の時
日本で1台300万円の車をアメリカに輸出したら何ドルになるのか?	30,000ドル	【 A 】ドル	【 B 】ドル

ア 22,500 イ 25,000 ウ 36,000 エ 40,000

(7) 直接税とは、担税者（税金を負担する人）と納税者（税金を納める人）が同じ税のことであり、間接税とは、担税者と納税者が異なる税のことである。では、次のア～エのうち間接税に当てはまるものを1つ選び、記号で答えなさい。

ア 法人税 イ 所得税 ウ 消費税 エ 相続税

(8) 次のア～エは、2018年度、日本の歳出における上位4項目である。1番目に金額の多い項目として正しいものを、下のア～エから1つ選び、記号で答えなさい。

ア 地方交付税交付金 イ 国債費 ウ 社会保障関係費 エ 公共事業関係費

6 次の(1)～(8)の各問いに答えなさい。

(1) 2018年11月、2025年国際博覧会(万博)の開催国を決める博覧会国際事務局(BIE)総会が、パリで開かれ、加盟各国の投票で【A】が選ばれた。大規模な万博としては2005年の愛知以来で、【A】では【B】年以來の開催となる。空欄A・Bに当てはまる組み合わせとして正しいものを、次のア～カから1つ選び、記号で答えなさい。

ア A - 大阪 B - 1964 イ A - 大阪 B - 1970 ウ A - 東京 B - 1964
エ A - 東京 B - 1970 オ A - 福岡 B - 1964 カ A - 福岡 B - 1970

(2) 2019年1月、日本政府観光局(JNTO)が発表した2018年の訪日外国人客数(推計値)は、前年比8.7%増であり、過去最高を記録した。では、2018年の訪日外国人客数の値として最も近いものを、次のア～エから1つ選び、記号で答えなさい。

ア 1,000万人 イ 2,000万人 ウ 3,000万人 エ 4,000万人

(3) 2019年4月、政府・日銀は2024年度前半に千円、五千円、一万円の各紙幣(日本銀行券)を一新させると発表した。このうち、千円札の図柄は北里柴三郎、一万円札は渋沢栄一になるが、五千円札の図柄の人物として正しいものを、次のア～エから1つ選び、記号で答えなさい。

ア 大隈重信 イ 津田梅子 ウ 板垣退助 エ 与謝野晶子

(4) 2019年6月、アメリカプロバスケットボール(NBA)のドラフト会議がニューヨークのブルックリンで行われ、21歳の日本人が1巡目9位でワシントン・ウィザーズに指名された。この人物の名前として正しいものを、次のア～エから1つ選び、記号で答えなさい。

ア 菊池雄星 イ 羽生結弦 ウ 久保建英 エ 八村塁

(5) 2019年7月、アゼルバイジャンで国連教育科学文化機関(ユネスコ)第43回世界遺産委員会が開かれ、【 】の世界文化遺産への登録を決めた。空欄に当てはまる語句として正しいものを、次のア～エから1つ選び、記号で答えなさい。

ア 長崎と天草地方の潜伏キリシタン関連遺産 イ 彦根城
ウ 奄美大島、徳之島、沖縄島北部および西表島 エ 百舌鳥・古市古墳群

(6) 2019年9月、総務省が16日の敬老の日にあわせてまとめた15日時点の人口推計によると、65歳以上の高齢者人口は前年比32万人増の3,588万人だった。過去最多を更新し、日本の総人口の【 】%を占めた。空欄に当てはまる値として正しいものを、次のア～エから1つ選び、記号で答えなさい。

ア 18.4 イ 23.4 ウ 28.4 エ 33.4

(7) 2019年9月、ニューヨークの国連本部で「気候行動サミット」が開かれ、各国が気候変動への対応を議論した。スウェーデンの16歳の環境活動家は、若者の代表として登壇し「失敗したら我々は許さない」と各国の指導者たちに警告した。グテレス国連事務総長は「77カ国が2050年に温暖化ガスの排出を実質ゼロにすることを約束した」と締めくくった。この16歳の環境活動家の名前として正しいものを、次のア～エから1つ選び、記号で答えなさい。

ア グレタ＝トゥンベリ イ マララ＝ユスフザイ
ウ アンゲラ＝メルケル エ ワンガリ＝マータイ

(8) 2019年10月1日、消費税が8%から10%に上がった。日本ではこれまでも数度、増税が実施されたことがあるが、消費税導入から10%までの増税の流れとして正しいものを、下の表中のア～エから1つ選び、記号で答えなさい。

	消費税導入時	1回目の引き上げ	2回目の引き上げ	3回目の引き上げ
ア	2%	4%	8%	10%
イ	2%	5%	8%	10%
ウ	3%	4%	8%	10%
エ	3%	5%	8%	10%