

令和 5 年度
四天王寺東高等学校入学試験問題

社 会

注意 答はすべて解答用紙に書きなさい。

1 第32回東京オリンピックが今年の8月に終了したが、次の表は、第1回夏季オリンピック大会から戦前までの開催地(国)をまとめた略年表である。後の各問いに答えなさい。

回	開催年	開催地(国)
1	1896	①アテネ(ギリシア)
2	1900	②パリ(フランス)
3	1904	セントルイス(アメリカ) A
4	1908	③ロンドン(イギリス)
5	1912	④ストックホルム(スウェーデン)
6	1916	ベルリン(ドイツ) 第一次世界大戦のため中止
7	1920	アントワープ(ベルギー) B
8	1924	パリ(フランス)
9	1928	⑤アムステルダム(オランダ)
10	1932	⑥ロサンゼルス(アメリカ)
11	1936	⑦ベルリン(ドイツ)
12	1940	東京(日本) ⑧日中戦争のため大会返上 ヘルシンキ(フィンランド) 第二次世界大戦のため中止
13	1944	ロンドン(イギリス) 第二次世界大戦のため中止


「公益財団法人日本オリンピック委員会ホームページ」などより作成

(1) 下線部①について、アテネは、紀元前6世紀末に民主政を確立したポリス(都市国家)である。このアテネと関係の深い遺跡を、次のア～ウから1つ選び、記号で答えなさい。

ア



イ



ウ



(2) 下線部②について、パリでは18世紀後半に政府に対する不満から、民衆が武器をとって立ち上がり革命を起こした。人々は自由・平等の権利を求め、国民が政治を行う権限を主張した。次のページの資料を何というか、次のア～ウから1つ選び、記号で答えなさい。

第1条 人は、生まれながらにして、自由・平等である。

第3条 主権は国民にある。

第4条 自由とは、他人を害しないかぎり、すべてのことを行えることである。

ア ^{どくりつせんげん}独立宣言 イ ^{じんけんせんげん}人権宣言 ウ ^{しやうてん}権利の章典

(3) 下線部③について、日本とイギリスに関するA～Cの出来事を、古い順に並べた組み合わせとして正しいものを、次のア～カから1つ選び、記号で答えなさい。

A ^{なまわぎ}生麦事件の報復で、イギリスが^{かごしま}鹿児島を^{ほうげき}砲撃した^{きつえい}薩英戦争が起こった。

B 条約改正の結果、イギリスが領事裁判権の撤廃を認めた。

C イギリスのフェートン号が^{ながさき}長崎に侵入し、^{しんすい}薪水・食料を強奪した。

ア A ⇒ B ⇒ C イ A ⇒ C ⇒ B ウ B ⇒ A ⇒ C

エ B ⇒ C ⇒ A オ C ⇒ A ⇒ B カ C ⇒ B ⇒ A

(4) 下線部④について、この都市では毎年ノーベル賞5分野の授賞式が行われている。戦後日本人で、はじめて物理学賞を受賞した人物を、次のア～ウから1つ選び、記号で答えなさい。

ア ^{のぐちひでよ}野口英世 イ ^{ゆかわひでき}湯川秀樹 ウ ^{きたざとしげさぶろう}北里柴三郎

(5) 下線部⑤について、江戸時代はオランダから西洋の学術・知識を入手し、それを研究する蘭学(洋学)が発達した。次のAとBの説明の正誤の組み合わせとして正しいものを、下のア～エから1つ選び、記号で答えなさい。

A ^{もとおりのりなが}本居宣長や^{いのうただたか}伊能忠敬は、オランダ語の^{かいぼう}解剖書を^{ほんやく}翻訳し『解体新書』を出版した。

B ^{ひらがげんない}平賀源内は、日本ではじめて寒暖計や発電機をつくった。

ア A - 正 B - 正 イ A - 正 B - 誤

ウ A - 誤 B - 正 エ A - 誤 B - 誤

(6) 下線部⑥について、第10回オリンピック大会が開かれた翌年のアメリカは、^{せかいきようこう}世界恐慌から抜け出すため経済再建に乗り出した。当時の政策と、この政策をおこなった大統領の組み合わせとして正しいものを、次のア～エから1つ選び、記号で答えなさい。

ア ニューディール政策 - ルーズベルト大統領

イ ニューディール政策 - トルーマン大統領

ウ ブロック経済政策 - ルーズベルト大統領

エ ブロック経済政策 - トルーマン大統領

- (7) 下線部⑦について、第 11 回オリンピック大会は、ナチスのヒトラーが独裁者となっていた頃に開催された。同年に日本国内では、軍部政権による国家改造をめざし、青年将校たちが大臣らを殺害し、東京の中心部を占拠する事件が起こった。右の資料はその様子を示している。この事件名を、次のア～ウから 1 つ選び、記号で答えなさい。



ア 五・一五事件 イ 大逆事件 ウ 二・二六事件

- (8) 下線部⑧について、次の文中の空欄 (A)・(B) に当てはまる語句の組み合わせとして正しいものを、下のア～エから 1 つ選び、記号で答えなさい。

日中戦争は、1937年7月7日北京郊外の盧溝橋で日中両軍が衝突したことで始まった。中国国民党の (A) は、対立していた中国共産党と抗日民族統一戦線を成立させたため、日中の全面戦争へと拡大した。日本国内では、翌年国民生活を犠牲にした (B) が制定され、議会の承認なしに資源と国民を戦争に動員できる戦時体制が整えられた。

ア A - 毛沢東 B - 治安維持法 イ A - 毛沢東 B - 国家総動員法
ウ A - 蔣介石 B - 治安維持法 エ A - 蔣介石 B - 国家総動員法

- (9) 略年表中の [A] と [B] の時期に起こった出来事の説明として正しいものを、次のア～ウからそれぞれ 1 つ選び、記号で答えなさい。

- [A] ア 富国強兵をスローガンに、全国統一の近代的軍隊をつくるため、徴兵令を發布した。
イ 天皇が国民に与える形式で大日本帝国憲法が發布され、日本はアジアで初めての近代的な憲法をもつ立憲君主国家となった。
ウ 満州・韓国の支配をめぐる対立から、日露戦争が起こった。両国とも戦争の継続が困難となり、アメリカ大統領の仲立ちによってポーツマス条約を結んだ。
- [B] ア ロシアではレーニンの指導の下、労働者や兵士が革命を起こし、ロシア皇帝が退位した。
イ 男女平等の普通選挙権を認めるなど、当時の世界ではもっとも民主的な憲法であるワイマール憲法が制定された。
ウ アメリカの呼びかけでワシントン会議が開催され、日英同盟を廃止し、新たに四か国条約が結ばれた。

2 次の資料は、それぞれの時代の宗教についてまとめたものである。後の各問いに答えなさい。

A	この頃に (a) から仏教が伝えられた。当時の仏教は病気を治したり、先祖の冥福を祈ったりするための新しい宗教と考えられていた。
B	僧の行基は、豪族や庶民に仏教信仰を広め、たくさんの寺院を建てたり、橋やため池をつくり人々の生活を救った。朝廷も行基に大仏づくりの協力を依頼した。
C	(b) 宗を開いた最澄は、都から離れた山中で厳しい修行をして、悟りを得る新しい仏教を広め、皇族や貴族の支持を得た。
D	親鸞は、阿弥陀仏にすがり「南無阿弥陀仏」と念仏を唱えれば、誰でも必ず極楽浄土に生まれ変われると説き人々から支持を得た。また、座禅によって悟りを開く禅宗が中国から伝えられた。
E	禅宗の教えが広まり、禅の世界観を表す寺院や庭園がつくられ、水墨画も盛んに描かれるようになった。雪舟の「秋冬山水図」は有名である。
F	武士の社会では、忠義や孝行を重要視する儒学、その中でも朱子学が広まった。幕府は、孔子をまつる湯島聖堂を建てたり、朱子学以外の儒学を学ぶことを禁止した。

(1) 資料中の空欄 (a)・(b) に当てはまる語句を、次のア～カからそれぞれ1つ選び、記号で答えなさい。

ア 高句麗 イ 百済 ウ 新羅 エ 真言 オ 浄土 カ 天台

(2) A の時代の様子を説明した文章として正しいものを、次のア～ウから1つ選び、記号で答えなさい。

- ア 巨大な前方後円墳が造られた。古墳の周辺には多くの埴輪が並べられ、石棺には武具や銅鏡などの埋葬品が納められた。
- イ 蘇我氏と物部氏の勢力争いが激しくなり、勝利した蘇我馬子は大きな権力を握るようになった。
- ウ 30ほどの小国を従えている邪馬台国の女王である卑弥呼は、魏に使いを送り、金印と銅鏡100枚を与えられた。

(3) B の時代に関して、右の資料は安房国から税として都に届けられた特産物の鰻の荷札として使用された木簡である。このような特産物の税を何というか、次のア～エから1つ選び、記号で答えなさい。

ア 租 イ 庸 ウ 調 エ 雑徭



(4) Cの時代に起こった世界の出来事の説明として正しいものを、次のア～ウから1つ選び、記号で答えなさい。

- ア 朝鮮半島では、それまで支配していた新羅にかわって高麗^{こうらい}が統一するようになった。高麗は、仏教や儒教を保護した。
- イ アラビア半島のメッカの商人ムハンマド（マホメット）は、アッラーの神の前では全ての人には平等であるとするイスラム教を説いた。
- ウ チンギス=ハンが築いたモンゴル帝国は、アジアからヨーロッパにまたがる広大な地域を支配し、あらゆる宗教の自由な信仰を保障^{ほしやう}したので、人や文化の交流が活発になった。

(5) Dの時代では、後鳥羽上皇^{ごとほじやうこう}が挙兵し、幕府側に敗北する承久^{じやうきゆう}の乱が起こった。この乱のあとに起こったDの時代の出来事の組み合わせとして正しいものを、次のア～エから1つ選び、記号で答えなさい。

- a 朝廷や西国の御家人^{ごけにん}を監視するため、六波羅探題^{ろくはらたんたい}を置いた。
- b 朝廷や西国大名を監視するため、京都所司代^{きやうとしよしだい}を置いた。
- c 畿内^{きない}や西国に新たに地頭^{じとう}を任命したことにより、荘園領主との間に、土地の支配や年貢^{ねんぐ}をめぐる争いが更に多くなった。
- d 幕府から任命された守護は、荘園の年貢の半分を取り立てて家来に与えたりし、一国を支配するようになった。

ア aとc イ aとd ウ bとc エ bとd

(6) 右の資料は、Eの時代に建てられた慈照寺銀閣^{じしやうじぎんかく}である。この建物と関係の深い人物を、次のア～ウから1つ選び、記号で答えなさい。

ア 足利義満^{あしかがよしみつ} イ 足利義政^{よしまさ} ウ 足利義昭^{よしあき}



(7) Fの時代について、湯島聖堂で朱子学以外の儒学の講義、研究を禁じたのは松平定信^{まつだいらさだのぶ}である。彼が他に行った政治改革として正しいものを、次のア～ウから1つ選び、記号で答えなさい。

- ア 株仲間^{かぶなかま}を積極的に認めるかわりに、一定の税を納めさせ、幕府の収入を安定させようとした。
- イ 旗本や御家人の借金を帳消しにして、困窮^{こんきゆう}する武士の生活を救おうとした。
- ウ 公事方御定書^{くじかたおさだめがき}をつくって裁判の基準を定めた。

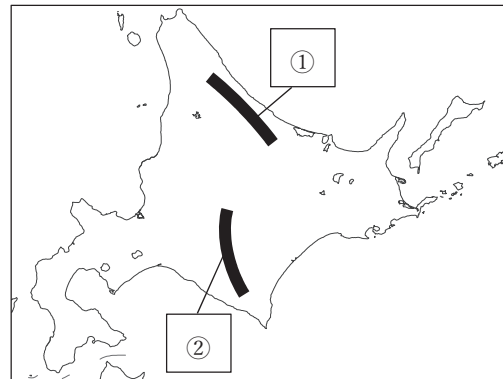
3 日本の各都市では、現在も路面電車（主に一般道路に設けられた線路を走る鉄道）が多く見られる。次の表は代表的な路面電車についてまとめたものである。これを見て、後の各問いに答えなさい。

名称	運行地	路線距離	特徴
札幌市電	a北海道	8.9km	日本最北端の路面電車
b函館市電	北海道	10.9km	札幌市電とともに北海道遺産に認定
都電荒川線	c東京都	12.2km	愛称は「東京さくらトラム」
富山地方鉄道	d富山県	7.5km	令和2年より富山ライトレールとの相互直通運転を開始
豊橋市電	愛知県	5.4km	e東海地方で唯一の路面電車
京福電気鉄道	f京都府	11km	嵐山本線と北野線の2線で運行
阪堺電気軌道	大阪府	18.3km	g阪堺線と上町線の2線で運行 開業時の名称は「大阪馬車鉄道」
とさでん交通	h高知県	25.3km	高知市を起点に南国市や、いの町を結ぶ
広島電軌軌道線	広島県	5.4km	i広島市内を中心に、本線をはじめ8つの系統で運行
熊本市電	j熊本県	11.5km	日本で初めて超低床電車を導入

「ニッポン旅マガジン」ホームページを元に作成

(1) 下線部 a について、次の地図中の に入る地形の名称の組み合わせとして正しいものを、次のア～エから1つ選び、記号で答えなさい。

- ア ① 北見山地 ② 日高山脈
 イ ① 北見山地 ② 越後山脈
 ウ ① 筑紫山地 ② 日高山脈
 エ ① 筑紫山地 ② 越後山脈



「帝国書院」より作成

(2) 下線部 b について、函館市の特徴に関する次の①、②の文章の正誤の組み合わせとして正しいものを、次のア～エから1つ選び、記号で答えなさい。

- ① この都市は、オホーツク海に面している。
 ② この都市の港は、日米和親条約によって開港された。

- ア ① - 正 ② - 正 イ ① - 正 ② - 誤
 ウ ① - 誤 ② - 正 エ ① - 誤 ② - 誤


(3) 下線部 c について、東京都の数値がもっとも高い（または大きい）項目として誤っているものを、次のア～エから1つ選び、記号で答えなさい。

- ア 1か月あたりの家賃 イ 一年間の商品販売額
 ウ 1世帯あたりの乗用車保有台数 エ 昼夜間の人口変化率

- (4) 下線部 d について、富山県では 1950～1960 年代にかけてイタイイタイ病が発生した。イタイイタイ病の原因となった物質名と、「水質汚濁」との組み合わせとして正しいものを、次のア～エから 1 つ選び、記号で答えなさい。(なお円グラフ中の X・Y は、「騒音」または「水質汚濁」のいずれかである。)

日本の公害苦情の種類別件数構成 (2019年度)

- ア メチル水銀 - X
 イ メチル水銀 - Y
 ウ カドミウム - X
 エ カドミウム - Y



「2022 データブック=オブ=ザ=ワールド」より作成

- (5) 下線部 e について、次の表は東海地方でも多く製造されている、ある工業製品の出荷額 (2019 年) 上位 5 道県を示したものである。この工業製品とは何か、次のア～エから 1 つ選び、記号で答えなさい。

- ア 金属製品 イ パルプ・紙・紙加工品
 ウ 食料品 エ 輸送用機械器具

静岡県	約 8,729 億円
愛媛県	約 5,707 億円
埼玉県	約 5,098 億円
愛知県	約 4,569 億円
北海道	約 3,880 億円

「2022/23 日本国勢図会」より作成

- (6) 下線部 f について、京都府の伝統産業として正しいものを、次のア～エから 1 つ選び、記号で答えなさい。

- ア 天童将棋駒 イ 九谷焼 ウ 会津塗 エ 西陣織

- (7) 下線部 g について、阪堺線は大阪市と堺市を結ぶことからその名が付けられている。この二つの都市はともに「政令指定都市」であるが、他にこの指定を受けている都市を、次のア～エから 1 つ選び、記号で答えなさい。

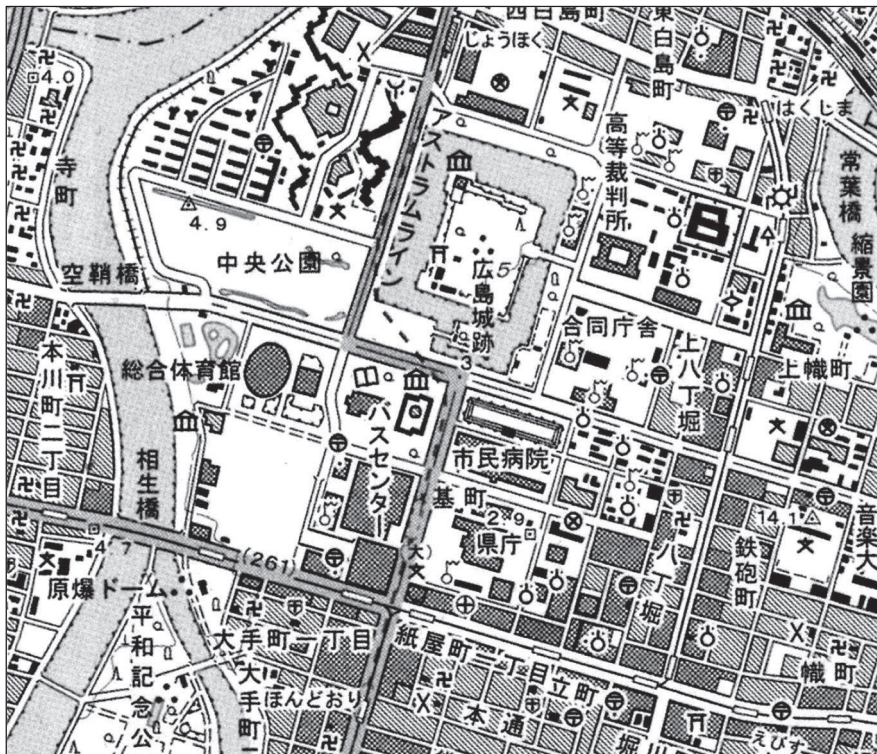
- ア 奈良県奈良市 イ 神奈川県横浜市
 ウ 兵庫県明石市 エ 長野県松本市

- (8) 下線部 h について、高知県は高齢者の割合が高い県である。次のページの表は、主な国の 65 歳以上人口の割合の変化をまとめたものである。日本に当てはまるものを、表中のア～エから 1 つ選び、記号で答えなさい。(なお表中の国は、日本、アメリカ、イギリス、スウェーデンのいずれかである。)

	ア	イ	ウ	エ
1960年	9.1%	11.8%	11.8%	5.6%
1980年	11.6%	16.3%	15.0%	8.9%
2000年	12.3%	17.3%	15.9%	17.0%
2020年	16.6%	20.3%	18.7%	28.4%

「2022 データブック=オブ=ザ=ワールド」より作成

(9) 下線部 i について、次の地形図は広島市内の中心部を示したものである。これを見て、次の各問いに答えなさい。(ただし、実際の縮尺よりも拡大している。)



(2万5千分の1地形図「広島」)

① この地形図において、「原爆ドーム」から「広島城跡」までを4cmとすると、実際の距離は約何mか、次のア～エから1つ選び、記号で答えなさい。

ア 50m イ 125m ウ 1000m エ 2000m

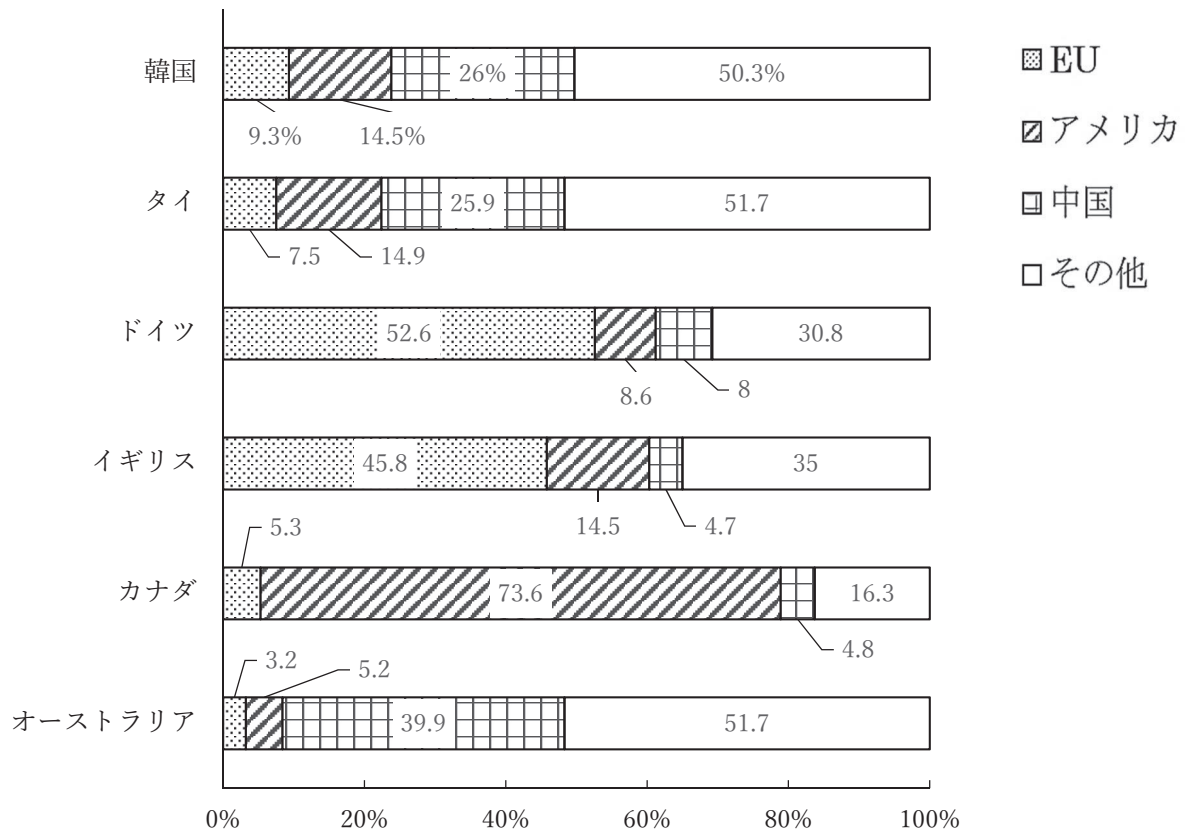
② この地形図上では見られない地図記号を、次のア～エから1つ選び、記号で答えなさい。

ア 工場 イ 神社 ウ 病院 エ 官公署

(10) 下線部 j) について、熊本県では「カルデラ」と呼ばれる地形がみられる場所がある。この地形の説明として正しいものを、次のア～エから 1 つ選び、記号で答えなさい。

- ア 火山活動によってできた、大きくかん没した円形の地形
- イ 川が山地から平地に流れ出るところに、石や岩が積もってできた地形
- ウ 水深の浅い海や湖を干上がらせて、人工的につくった地形
- エ 陸地が沈み込んだり、海面が上昇したりしてできた海岸地形

4 次のグラフは、2020 年の世界各国の輸出額に占める対 EU，対アメリカ，対中国の割合を示したものである。これを見て、後の各問いに答えなさい。

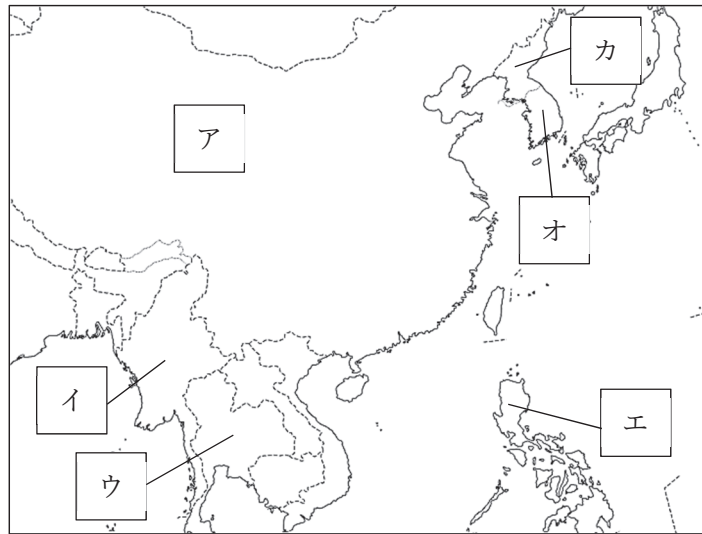


「2022/23 日本国勢図会」より作成

(1) グラフを正しく読み取ったものを、次のア～エから 1 つ選び、記号で答えなさい。

- ア 輸出額に占める対中国の割合は、すべての国において 10% をこえている。
- イ 輸出額に占める対アメリカの割合は、近隣の国において特に高いといえる。
- ウ 輸出額に占める対 EU の割合は、アジアの国々においても高いといえる。
- エ グラフ中の 6 ヶ国すべてにおいて、輸出額に占める対 EU，対アメリカ，対中国の割合の合計が 50% をこえている。

- (2) グラフ中の韓国とタイについて、その位置を次の地図中のア～カからそれぞれ選び、記号で答えなさい。



「帝国書院」より作成

- (3) グラフ中のイギリスについて、この国は4つの地域が統合されてできた国である。イギリスにふくまれない地域を、次のア～エから1つ選び、記号で答えなさい。

ア スコットランド イ ポーランド ウ イングランド
エ 北アイルランド

- (4) グラフ中のカナダについて、首都オタワと東京は14時間の時差がある。オタワの経度を、次のア～エから1つ選び、記号で答えなさい。

ア 西経 60 度 イ 西経 75 度 ウ 西経 90 度 エ 西経 105 度

- (5) グラフ中のドイツとオーストラリアについて、それぞれの国の説明として正しいものを、次のア～エから1つ選び、記号で答えなさい。

ア ドイツの面積はフランスより小さいが、イギリスよりは大きい。
イ ドイツのユーロポートは、ヨーロッパ最大の貿易港である。
ウ オーストラリアでは、マオリ族の文化を尊重する政策がとられている。
エ オーストラリアは羊の飼育頭数が多い一方で、牛はほとんど飼育されていない。

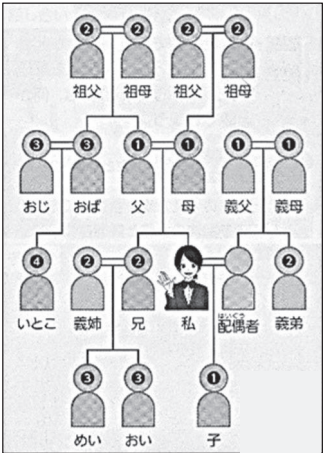
- (6) グラフ中の6カ国のうち、南半球に位置する国を、次のア～カから1つ選び、記号で答えなさい。

ア 韓国 イ タイ ウ ドイツ エ イギリス
オ カナダ カ オーストラリア

5 次の(1)～(9)の各問いに答えなさい。

(1) 次の民法条文および図を見て、父が死亡して遺産が1,000万円ある場合、私が受け取る遺産の金額として正しいものを、下のア～エから1つ選び、記号で答えなさい。

民法 900 条【法定相続分】
 同順位の相続人が数人あるときは、その相続分は、次の各号の定めるところによる。
 一 子及び配偶者が相続人であるときは、子の相続分及び配偶者の相続分は、2分の1とする。(二～四号は省略)
 ※配偶者：この場合は母のことを指す



(図中の数字は親等を表す。)

- ア 1,000 万円 イ 500 万円
 ウ 250 万円 エ 0 円

(2) 右の図は、日本国憲法の構成表である。空欄【 A 】・【 B 】に入る語句の組み合わせとして正しいものを、次のア～エから1つ選び、記号で答えなさい。

第1章	天皇
第2章	戦争の放棄
第3章	国民の権利及び義務
第4章	□ ←【 A 】
第5章	内閣
第6章	司法
第7章	財政
第8章	□ ←【 B 】
第9章	改正
第10章	最高法規
第11章	補則

- ア A - 国会 B - 会計
 イ A - 国会 B - 地方自治
 ウ A - 帝国議会 B - 会計
 エ A - 帝国議会 B - 地方自治

(3) 私たちが一人一人、個人として尊重され、たがいのちがいを認め合って、その個性や才能を發揮していくには、国家から干渉されずに生活できなければならない。そのために必要な権利を自由権という。これらをふまえ、日本国憲法では大きく三つの自由が保障されているが、この三つの自由に含まれないものを、次のア～エから1つ選び、記号で答えなさい。

- ア 精神の自由 イ 生命・身体の自由 ウ 臣民の自由 エ 経済活動の自由

(4) 国際的な人権の保障に関する次の文章を読み、空欄【 A 】・【 B 】に入る語句の組み合わせとして正しいものを、次のページのページのア～エから1つ選び、記号で答えなさい。

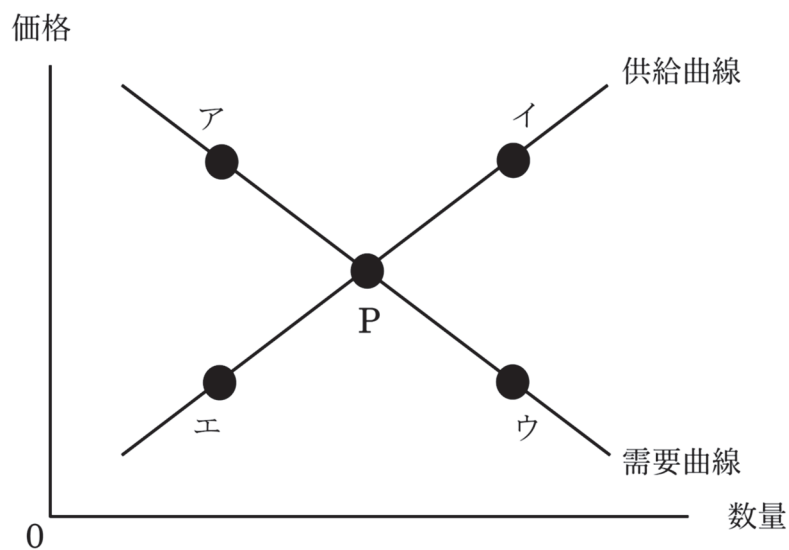
本来、人権は人であれば無条件にもっている権利であり、どの国に生まれても同じように保障されるべきである。しかし、国によっては人権が十分に保障されていないこともある。そこで、1948年に国際連合総会で採択された【 A 】は、達成すべき共通の人権保障の水準を掲げた。そして、それを実現するために、1966年に人権の保障を義務づける【 B 】が採択された。

- | | | |
|---|--------------|------------------|
| ア | A - 世界人権宣言 | B - 児童(子ども)の権利条約 |
| イ | A - 世界人権宣言 | B - 国際人権規約 |
| ウ | A - 人種差別撤廃条約 | B - 児童(子ども)の権利条約 |
| エ | A - 人種差別撤廃条約 | B - 国際人権規約 |

(5) 次のア～ウの文章は、裁判にかかわる人々に関する内容である。裁判にかかわる人々とは、主に裁判官・検察官・弁護士であるが、これらのうち、検察官に関する内容の文章として正しいものを、次のア～ウから1つ選び、記号で答えなさい。

- ア 刑事裁判で、国を代表する立場から、被疑者を起訴する。裁判では、証拠に基づいて有罪を主張し、求刑する。
- イ 民事裁判では、代理人として原告や被告の利益を守り、刑事裁判では、弁護人として被告人の権利を守る。
- ウ 裁判を指揮し、当事者から出された証拠に基づいて判断して、判決を言いわたす。

(6) 下の図は、ある製品の需要曲線と供給曲線が実線で描かれている。均衡点はPである。では、著名人がこの製品をテレビで紹介したことで、この製品の人気が出たとき、均衡点は下の図中のア～エのどこに移動するか、正しいものを、図中のア～エから1つ選び、記号で答えなさい。



(7) 間接金融に当てはまるものを、次のア～エから1つ選び、記号で答えなさい。

- ア 民間の投資集団から資金を調達する。
- イ 社債を発行して資金を調達する。
- ウ 株式を発行して資金を調達する。
- エ 銀行などの金融機関を通じて資金を調達する。

- (8) 次の表は、労働基準法の内容の一部である。空欄【 】に当てはまる数字として正しいものを、下のア～エから1つ選び、記号で答えなさい。

労働時間	1日8時間、1週間で【 】時間以内(第32条)
------	-------------------------

ア 40 イ 45 ウ 50 エ 55

- (9) 次のア～エは、為替相場の変化の影響に関する内容のものである。正しい内容のものを、次のア～エから1つ選び、記号で答えなさい。

- ア 海外に新たに工場を建設するときは、円安のほうがかかる費用が少なくなる。
 イ 日本でつくった自動車を海外に輸出すると、円高のほうが売れやすくなる。
 ウ オーストラリア産の牛肉をスーパーで購入するとき、円安のほうが価格が安くなる。
 エ 海外旅行に行くとき、空港の両替所で円をドルに交換する際は、円高のほうが受け取るドルが多くなる。

6 次の(1)～(5)の各問いに答えなさい。

- (1) 2022年1月11日、東京証券取引所は4月4日に移行する新市場区分での上場企業を公表した。現行の1部、2部、ジャスダック、マザーズに上場する全企業が、「【 】」「スタンダード」「グロース」のいずれかの市場に振り分けられる。最上位の【 】には1部の9割程度にあたる1,800～1,900社が移る見通しである。空欄に当てはまる語句として正しいものを、次のア～エから1つ選び、記号で答えなさい。なお、空欄には同じ語句が入る。

ア プライム イ トップ ウ ハイ エ スペシャル

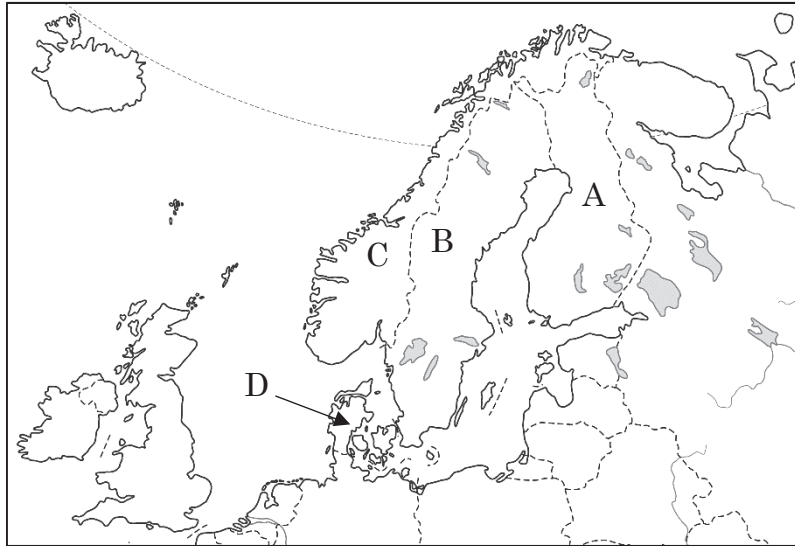
- (2) 2022年4月15日、総務省は2021年10月1日時点の人口推計を発表した。外国人を含む総人口は2020年10月と比べて64万4,000人少ない【 】人だった。減少は11年連続、減少率は0.51%で、統計を取り始めた1950年以来、最大となった。空欄に当てはまる数字に最も近いものを、次のア～エから1つ選び、記号で答えなさい。

ア 1億4,550万 イ 1億3,550万 ウ 1億2,550万 エ 1億1,550万

- (3) 2022年6月15日、子ども政策の司令塔となる【 A 】を創設する関連法が参議院本会議で可決、成立した。他省庁への勧告権を持つ【 A 】が2023年4月に【 B 】の外局として発足する。空欄【 A 】・【 B 】に当てはまる語句の組み合わせとして正しいものを、次のア～エから1つ選び、記号で答えなさい。

ア A - こども庁 B - 文部科学省 イ A - こども家庭庁 B - 文部科学省
 ウ A - こども庁 B - 内閣府 エ A - こども家庭庁 B - 内閣府

- (4) 2022年6月29日、北大西洋条約機構（NATO）はマドリードで開いた首脳会議で、北欧のフィンランドとスウェーデンの加盟を認めることで合意した。2023年までに加盟が実現する可能性がある。では、フィンランドとスウェーデンの位置の組み合わせとして正しいものを、下のア～エから1つ選び、記号で答えなさい。なお、選択肢にあるA～Dは、地図中のA～Dのことである。



(帝国書院ホームページより作成)

- ア フィンランド － A スウェーデン － B
イ フィンランド － A スウェーデン － C
ウ フィンランド － B スウェーデン － D
エ フィンランド － C スウェーデン － D
- (5) 2022年7月24日、気象庁によると、鹿児島県の【 】で爆発的な噴火が発生した。翌日も噴火し、噴煙は2,200メートルに達した。空欄に当てはまる語句として正しいものを、次のア～エから1つ選び、記号で答えなさい。

ア 佐渡島 イ 桜島 ウ 大山 エ 霧島山