

令和 8 年度  
四天王寺東高等学校入学試験問題

社 会

注意 答はすべて解答用紙に書きなさい。

1 次の文章は、日本と中国、朝鮮の歴史についての A さんと先生の会話である。後の各問いに答えなさい。

先生：今日は古代から近世にかけての日本・中国・朝鮮の関係について学びましょう。

まず、古代の交流から始めますね。

A さん：a 古代って、どのくらい昔のことですか？

先生：おおまかに言えば、b 紀元前から奈良時代くらいまでです。たとえば弥生時代の日本には、中国から稲作や c 青銅器が朝鮮半島を経由して伝わりました。

A さん：じゃあ、朝鮮は中継地点だったのですか？

先生：そうです。特に d 百済や高句麗、新羅などの朝鮮 3 国は、日本と中国の間で文化や技術の橋渡しをしていました。e 仏教も朝鮮を通じて日本に伝わりました。

A さん：仏教って中国から直接ではなかったのですね。

先生：はい。次に中世、つまり鎌倉時代から f 室町時代、そして安土桃山時代にかけての話に移りましょう。

A さん：この時代は戦争などもあったのですか？

先生：ありました。代表的なのが g 元寇です。13 世紀にモンゴル帝国が中国を支配して「元」となり、朝鮮の高麗を従えて日本に攻めてきました。

A さん：たしか日本は勝ちましたよね。

先生：はい。台風のおかげもあり、元軍は撤退しました。これが日本にとって大きな自信になりました。

A さん：じゃあ、近世はどうですか？

先生：その前に、h 豊臣秀吉の朝鮮出兵があります。16 世紀末、日本が朝鮮に侵攻しましたが、明と朝鮮が連携して撃退しました。

A さん：日本が中国と朝鮮を相手に戦ったのですね。

先生：そうです。けれど江戸時代になると、戦争はなくなり、朝鮮とは  という使節団を通じて交流が行われました。彼らは文化交流や外交の象徴であり、詩や書画の交換などもしました。中国とも、i 長崎を通じて貿易が続きました。

A さん：戦争もあったけど、文化の交流も深かったのですね。

先生：その通りです。東アジアの 3 国は時に争い、時に学び合いながら、互いに影響を与え続けてきたのです。

(1) 文中の  に当てはまる語句として正しいものを、次のア～エから 1 つ選び、記号で答えなさい。

ア 遣唐使      イ 通信使      ウ 渡来人      エ 倭寇

(2) 下線部 a について、古代文明の説明として正しいものを、次のア～エから 1 つ選び、記号で答えなさい。

- ア エジプト文明では、モヘンジョ＝ダロなどの遺跡が有名である。
- イ 中国文明では、孔子が仁と礼にもとづく儒教の教えを説いた。
- ウ インダス文明では、ハンムラビ王によって法律が定められた。
- エ メソポタミア文明では、1年を365日とする太陽暦を使用していた。

(3) 下線部 b について、古代日本の時代を古いものから順に正しく並べたものを、次のア～エから1つ選び、記号で答えなさい。

- ア 縄文時代 ⇒ 弥生時代 ⇒ 古墳時代 ⇒ 飛鳥時代 ⇒ 奈良時代
- イ 弥生時代 ⇒ 古墳時代 ⇒ 縄文時代 ⇒ 飛鳥時代 ⇒ 奈良時代
- ウ 縄文時代 ⇒ 古墳時代 ⇒ 弥生時代 ⇒ 飛鳥時代 ⇒ 奈良時代
- エ 弥生時代 ⇒ 縄文時代 ⇒ 古墳時代 ⇒ 飛鳥時代 ⇒ 奈良時代

(4) 下線部 c について、右の青銅器の名称として正しいものを、次のア～エから1つ選び、記号で答えなさい。

- ア 銅剣      イ 銅矛      ウ 銅鏡      エ 銅鐸



(5) 下線部 d について、朝鮮3国の位置の組み合わせとして正しいものを、次のア～エから1つ選び、記号で答えなさい。

- ア A - 百済      B - 高句麗  
C - 新羅
- イ A - 高句麗      B - 百済  
C - 新羅
- ウ A - 百済      B - 新羅  
C - 高句麗
- エ A - 高句麗      B - 新羅  
C - 百済



帝国書院ホームページより作成

(6) 下線部 e について、僧の名称と、その人物が開いた宗派名の組み合わせとして誤っているものを、次のア～エから1つ選び、記号で答えなさい。

- ア 空海 - 真言宗      イ 道元 - 臨済宗
- ウ 法然 - 浄土宗      エ 最澄 - 天台宗

(7) 下線部 f について、この時代に幕府が置かれていた都道府県はどこか、次のア～エから 1 つ選び、記号で答えなさい。

ア 東京都      イ 神奈川県      ウ 京都府      エ 福岡県

(8) 下線部 g について、この時期の幕府側の執権と、元軍による 2 回目の襲来の名称の組み合わせとして正しいものを、次のア～エから 1 つ選び、記号で答えなさい。

ア 楠木正成 – 文永の役      イ 楠木正成 – 弘安の役  
ウ 北条時宗 – 文永の役      エ 北条時宗 – 弘安の役

(9) 下線部 h について、この人物に関する次の説明文 A、B の正誤を正しく示したものを、次のア～エから 1 つ選び、記号で答えなさい。

A 関白の地位につくことで、天皇の伝統的な権威も利用して全国統一を進めた。  
B 刀狩や検地を行うことで一揆などを防ぎ、武士と百姓の区別を明確にした。

ア A、B ともに正しい。      イ A のみ正しい。  
ウ B のみ正しい。      エ A、B ともに誤っている。

(10) 下線部 i について、長崎には出島が築かれ、オランダとの貿易が行われていた。オランダの説明文として正しいものを、次のア～エから 1 つ選び、記号で答えなさい。

ア 大西洋を横断してインドへ向かおうとするコロンブスを支援した。  
イ 鉄血宰相と呼ばれたビスマルクの指導のもとで、富国強兵政策が進められた。  
ウ 南北戦争で国内に大きな被害が出たが、リンカンの指導の下で北部が勝利した。  
エ スペインから独立をはたした後、インドネシアなどに植民地を形成した。

2 次の表は、日本の外交に関する条約や宣言文である。後の各問いに答えなさい。

<b>A 樺太・千島交換条約</b> 日本とロシアの間で結ばれた領土に関する条約。	<b>B 下関条約</b> 日清戦争の後に結ばれた講和条約。	<b>C 21 カ条の要求</b> 日本が中華民国に対して示した要求。
<b>D ポツダム宣言</b> 太平洋戦争末期、連合国が日本に出した宣言。	<b>E サンフランシスコ平和条約</b> 1951 年、日本が 48 ヶ国と結んだ条約。	

(1) 次の資料は、A～Eのいずれかの内容の一部である。当てはまるものを、次のア～オから1つ選び、記号で答えなさい。

- 一 中国政府は、ドイツが山東省に持っている一切の権益を日本にゆずる。
- 一 日本の旅順・大連の租借の期限、南満州鉄道の期限を99ヵ年延長する。
- 一 中国政府は、南満州・東部内蒙古における鉱山の採掘権を日本国民に与える。

ア A      イ B      ウ C      エ D      オ E

(2) 資料Aについて、この条約によって樺太はどのような状態になったか、次のア～エから1つ選び、記号で答えなさい。

- ア 樺太全島が日本のものとなった。
- イ 樺太の南半分が日本のものとなった。
- ウ 樺太全島がロシアのものとなった。
- エ 樺太の南半分がロシアのものとなった。

(3) 資料Bについて、この条約で日本は清から遼東半島を獲得したが、これに対しヨーロッパ諸国は半島を返還するよう強く求めた。これを三国干渉というが、ここにふくまれる国の組み合わせとして正しいものを、次のア～エから1つ選び、記号で答えなさい。

- ア ロシア、ドイツ、フランス
- イ ロシア、オーストリア、フランス
- ウ ロシア、ドイツ、イタリア
- エ ロシア、オーストリア、イタリア

(4) 資料Cについて、この要求の取り消しを求めて、1919年に北京の学生らが起こした運動を、次のア～エから1つ選び、記号で答えなさい。

- ア 尊王攘夷運動
- イ 護憲運動
- ウ 非暴力・不服従運動
- エ 五・四運動

(5) 資料Dについて、次の文章はこの宣言に関するものである。文中の「あ」、「い」に当てはまる語句の組み合わせとして正しいものを、次のア～エから1つ選び、記号で答えなさい。

1945年になると、連合国は2月に「あ」で会談をし、さらに7月にはポツダムで会談を行い、そこで決まった内容をポツダム宣言として発表した。内容は日本に無条件降伏をうながすものであったが、日本は応じることなく戦争を続けた。その後、日本政府は8月14日に宣言を受け入れ、翌15日に昭和天皇が「い」放送を通して、国民に降伏を伝えた。

- ア 「あ」ローマ      「い」テレビ
- イ 「あ」ローマ      「い」ラジオ
- ウ 「あ」ヤルタ      「い」テレビ
- エ 「あ」ヤルタ      「い」ラジオ

(6) 資料 E について、この条約に調印した当時の日本の内閣総理大臣を、次のア～エから 1 つ選び、記号で答えなさい。

ア 石破茂            イ 吉田茂            ウ 東条英機            エ 菅義偉

(7) 次の①, ②の出来事が起こった時期として正しいものを、次のア～エからそれぞれ選び、記号で答えなさい。

① 第 1 回衆議院議員総選挙の開催            ② 日本が国際連盟から脱退

ア A と B の間            イ B と C の間            ウ C と D の間            エ D と E の間

3 2025 年に周年（50 および 100 年単位）を迎えた企業や団体は、全国で 2 万 8,743 社ある。以下の表はそのうちのいくつかを抜粋したものである。これを見て、後の各問いに答えなさい。

周年	企業・団体	創業地	内容
創立 900 年	<small>かんむりいなり</small> 冠 稲荷神社	A 群馬県	冠婚葬祭業
創立 800 年	<small>ながなたぼこ</small> 長刀鉾保存会	B 京都府	祇園祭の祭事運営
創立 400 年	<small>ふくみつや</small> 福光屋	C 石川県	酒造業
創立 300 年	<small>ことひら</small> 琴平国際ホテル八千代	D 香川県	ホテル・観光業
創立 200 年	伊勢半	E 東京都	化粧品製造業
創立 100 年	日本放送協会(NHK)	東京都	放送業
創立 100 年	雪印メグミルク	F 北海道	牛乳、乳製品及び食品の製造・販売等
創立 50 年	トヨタホーム	G 愛知県	住宅メーカー
創立 50 年	モンベル	H 大阪府	アウトドアスポーツ用品の企画、製造、販売

帝国データバンクホームページをもとに作成

(1) 下線部 A について、群馬県のように大都市からの輸送条件の良さを生かして行う農業を、次のア～エから 1 つ選び、記号で答えなさい。

ア 近郊農業            イ 園芸農業            ウ 混合農業            エ 循環型農業

(2) 下線部 B について、古い歴史と文化をもつ京都府では、観光産業や伝統産業が発達した。京都府の伝統工芸品として正しいものを、次のア～エから 1 つ選び、記号で答えなさい。

ア 輪島塗            イ 加賀友禅            ウ 西陣織            エ 南部鉄器

(3) 表中 C, D の都道府県の位置の組み合わせとして正しいものを, 次のア～エから 1 つ選び, 記号で答えなさい。

- ア C - ① D - ②  
イ C - ① D - ③  
ウ C - ② D - ①  
エ C - ② D - ③

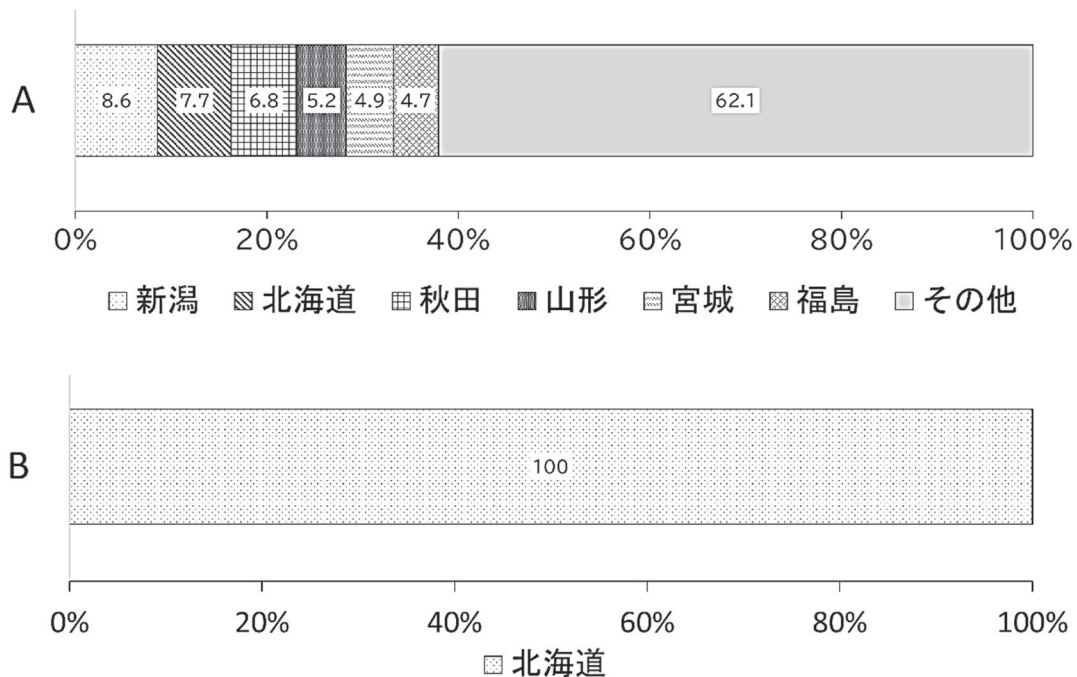


帝国書院ホームページより作成

(4) 下線部 E について, 東京都のような大都市に著しい人口集中が起き, これによってさまざまな現象が引き起こされている。次の説明文のうち, 都市部で起きている現象として誤っているものを, 次のア～エから 1 つ選び, 記号で答えなさい。

- ア 住宅不足や交通渋滞, 騒音, ごみ処理などの問題が生じている。  
イ 学校の統廃合が行われたり, 公共の交通機関であるバスの便数が減らされたりしている。  
ウ 夜間人口が減るドーナツ化現象が起き, 商店街の衰退などにつながった。  
エ 最近では郊外への拡大を抑え, 都市機能を中心部にまとめる動きも出てきている。

(5) 下線部 F について、北海道では、大型の農業機械を使った広大な農地経営が行われている。次のグラフ A, B は、じゃがいも、米、てんさいのいずれかの生産量を表したグラフである。この組み合わせとして正しいものを、次のア～カから 1 つ選び、記号で答えなさい。



- ア A - じゃがいも B - 米                      イ A - じゃがいも B - てんさい  
 ウ A - 米                      B - てんさい                      エ A - 米                      B - じゃがいも  
 オ A - てんさい                      B - じゃがいも                      カ A - てんさい                      B - 米

(6) 下線部 G について、東海地方には、愛知県豊田市をはじめとして、工業の原動力となる産業がある。三重県鈴鹿市、静岡県浜松市などに本社のあるこの産業として正しいものを、次のア～エから 1 つ選び、記号で答えなさい。

- ア 自動車産業                      イ 繊維工業                      ウ 製紙・パルプ業                      エ 食品加工業

(7) 下線部 H について、大阪府には関西国際空港があるが、近年、専用滑走路の整備や距離的に近いアジア各都市との路線の増加など、国際線を強化してきた。また格安航空会社の乗り入れも進んだが、この格安航空会社の略称として正しいものを、次のア～エから 1 つ選び、記号で答えなさい。

- ア ANA                      イ EEC                      ウ JAL                      エ LCC

(8) 表中の A～D について、都道府県名と都道府県庁所在地名が一致しないものはいくつあるか、次のア～エから 1 つ選び、記号で答えなさい。

- ア 1                      イ 2                      ウ 3                      エ 4

4 2025年、2026年は、多くの国が我が国との外交関係開設等における歴史的出来事を記念する節目を迎える年となる。以下の表を見て、後の各問いに答えなさい。

年	国・地域名	内容
2025年	A <u>大韓民国（韓国）</u>	日韓国交正常化 60 周年（日中韓文化交流年）
	中米	日・中米交流年（エルサルバドル、グアテマラ、コスタリカ、ドミニカ共和国、ニカラグア、パナマ、ベリーズ、ホンジュラス）
	B <u>ブラジル</u>	日本ブラジル友好交流年（外交関係樹立 130 周年）
	C <u>オランダ</u>	日・オランダ交流 425 周年
	D <u>ノルウェー</u>	日・ノルウェー外交関係樹立 120 周年
	E <u>サウジアラビア</u>	日・サウジアラビア外交関係樹立 70 周年
2026年	シンガポール	日・シンガポール外交関係樹立 60 周年
	F <u>フィリピン</u>	日・フィリピン国交正常化 70 周年
	ブータン	日・ブータン外交関係樹立 40 周年
	アルゼンチン	アルゼンチン日本人移住 140 周年
	パラグアイ	パラグアイ日本人移住 90 周年
	G <u>イタリア</u>	日・イタリア外交関係樹立 160 周年
	H <u>国連</u>	日本の国連加盟 70 周年
	I <u>ユネスコ</u>	日本のユネスコ（UNESCO）加盟 75 周年

外務省ホームページをもとに作成

(1) 日本は様々な国と国交を結んでいるが、世界の時刻は場所によって異なり、時差が発生することが多くある。各地の時刻の基準であるイギリスを経度 0 度としているが、日本との時差は何時間あるか、次のア～エから 1 つ選び、記号で答えなさい。ただし、日本は東経 135 度である。

ア 6 時間      イ 9 時間      ウ 12 時間      エ 15 時間

(2) 下線部 A について、大韓民国は 1960 年代から急速に工業化を進め、アジア NIES（新興工業経済地域）と呼ばれてきた。次のうち、アジア NIES ではない国や地域を、次のア～エから 1 つ選び、記号で答えなさい。

ア マレーシア      イ シンガポール      ウ 香港（ホンコン）      エ 台湾

(3) 下線部 B について、南アメリカの多くの国は、かつてヨーロッパの国々の植民地であった。そのためかつて植民地にしていた国（宗主国）の言語を公用語としている国が数多くある。南アメリカの国のうち公用語がポルトガル語である国を、次のア～エから 1 つ選び、記号で答えなさい。

ア アルゼンチン      イ ブラジル      ウ コロンビア      エ ペルー

(4) 下線部 C について、オランダが加盟している EU は、ヨーロッパ全体が一体となって、経済的な結びつきを中心に発展していこうとするものである。ヨーロッパの気候や産業に関する説明として正しいものを、次のア～エから 1 つ選び、記号で答えなさい。

ア スイスでは、石炭や鉄鉱石の資源が豊富なことを活かし、古くから鉄鋼業を発達させ、現在でもヨーロッパ最大の工業国となっている。

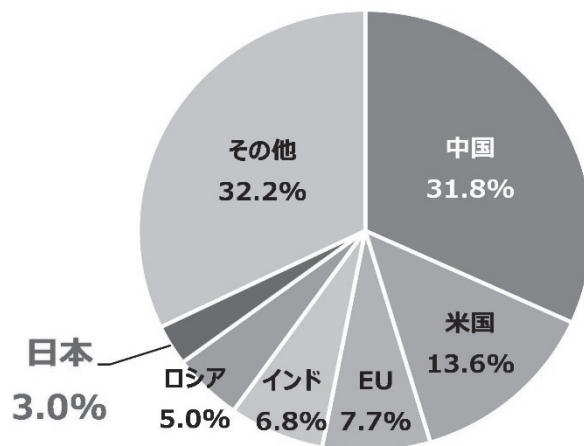
イ ドイツには、トゥールーズという航空機生産の中心地として発展した都市があり、ここに EU 各国の企業が共同で設立したエアバス社の組み立て工場がある。

ウ フランスでは、夏の気温が低く、穀物栽培に向かないため、酪農を盛んに行い、チーズやバターを生産している。

エ イタリアでは、降水量が少ない夏に乾燥に強いオリーブやブドウなどを栽培し、降水がみられる冬には、小麦や牧草などを栽培する地中海式農業がおこなわれている。

(5) 下線部 D について、ノルウェーは国内の発電量の 95%以上を再生可能エネルギーが占める国である。ヨーロッパでは二酸化炭素削減を目指して、再生可能エネルギーの導入をはじめとする環境のための政策が数多く実施されている。下のグラフから読み取ることができる内容として正しいものを、次のア～エから 1 つ選び、記号で答えなさい。

世界のエネルギー起源二酸化炭素排出割合（2021 年）



経済産業省資源エネルギー庁ホームページより

ア 「日本」は、すべての先進国の中で二酸化炭素排出量が世界一少ない国である。

イ 「中国」の二酸化炭素排出量は「米国」と「EU」を合わせた量よりは少ない。

ウ 「米国」の二酸化炭素排出量は「インド」と「EU」を合わせた量よりは少ない。

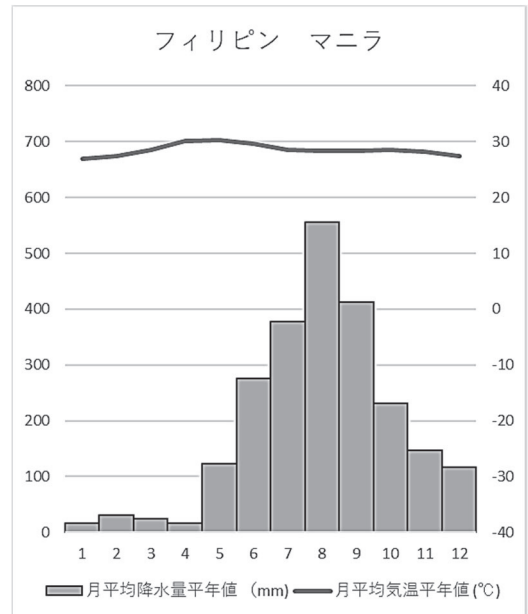
エ 「その他」には先進国は含まれていない。

(6) 下線部 E について、サウジアラビアには、メッカとメディナという二つの聖地がある。この国の人々は、豚肉を食べてはいけない、酒類を飲むことが禁止されているなど信仰している宗教の教えを厳格に守って暮らしている。サウジアラビアで信仰されている宗教として正しいものを、次のア～エから 1 つ選び、記号で答えなさい。

ア キリスト教      イ イスラム教      ウ ヒンドゥー教      エ 仏教

(7) 下線部 F について、右の雨温図はフィリピンのマニラのものである。この雨温図を参考に、フィリピンの気候として正しいものを、次のア～エから 1 つ選び、記号で答えなさい。

ア 熱帯      イ 乾燥帯  
ウ 寒帯      エ 冷帯



(8) 下線部 G について、イタリアは 1967 年に作られたヨーロッパ共同体 (EC) の頃からの原加盟国である。現在はヨーロッパ連合 (EU) を発足させ、ヒト、モノ、カネの移動が自由になった。現在の EU 加盟国は何か国か、次のア～エから 1 つ選び、記号で答えなさい。

ア 17      イ 22      ウ 27      エ 32

(9) 下線部 H について、右の国際連合のマークはある地図の図法をもとに作られているが、その図法として正しいものを、次のア～ウから 1 つ選び、記号で答えなさい。

ア メルカトル図法      イ 正距方位図法  
ウ モルワイデ図法



(10) 下線部 I について、2025 年は戦後 80 年という節目の年でもある。日本には、第二次世界大戦時の原子爆弾投下によって被ばくした建物を「原爆ドーム」として保存し、世界文化遺産に登録されている。この「原爆ドーム」の所在地として正しいものを、次のア～エから 1 つ選び、記号で答えなさい。

ア 富山県      イ 広島県      ウ 兵庫県      エ 長崎県

5 次の(1)～(8)の各問いに答えなさい。

(1) 日本国憲法の前文には、この憲法が制定された理由や目的が書かれている。それによると、日本国憲法は三つの基本原則から成り立っていることが分かる。では、この三つの基本原則に当てはまらないものを、次のア～エから1つ選び、記号で答えなさい。

ア 国民主権           イ 平和主義           ウ 四民平等           エ 基本的人権の尊重

(2) 日本の防衛の原則に関連する内容として正しくないものを、次のア～エから1つ選び、記号で答えなさい。

ア 専守防衛           イ 戦力の保持  
ウ 非核三原則       エ 文民統制（シビリアンコントロール）

(3) 次の文章は、参議院に関する内容のものである。[あ]、[い]に入る数字や語句の組み合わせとして正しいものを、次のア～エから1つ選び、記号で答えなさい。

参議院は、議員定数が[あ]人であり、任期は6年で3年ごとに半数改選となる。なお、衆議院と違い、解散が[い]。

ア [あ] 248 [い] ある           イ [あ] 248 [い] ない  
ウ [あ] 465 [い] ある           エ [あ] 465 [い] ない

(4) 次の表は、民事裁判と刑事裁判に関するものである。[あ]、[い]に入る語句の組み合わせとして正しいものを、次のア～エから1つ選び、記号で答えなさい。

	訴える側	訴えられる側
民事裁判	原告	[あ]
刑事裁判	[い]	被告人

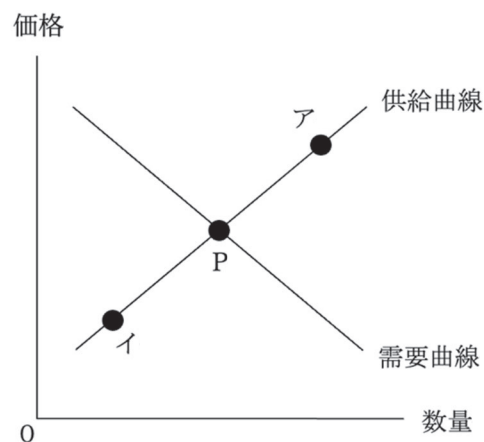
ア [あ] 容疑者 [い] 検察官           イ [あ] 容疑者 [い] 弁護士  
ウ [あ] 被告 [い] 検察官           エ [あ] 被告 [い] 弁護士

- (5) 次の文章は、家計の収入と支出に関する内容のものである。□に入る語句として正しいものを、次のア～エから1つ選び、記号で答えなさい。

私たちが家族や個人として消費生活を営む単位を家計といい、家計の収入を所得という。家計の所得からは、国や地方公共団体に税金や社会保険料が支払われ、それらを引いた後の所得（可処分所得）は、消費支出と□にふり分けられる。

- ア 貯蓄      イ 食料費      ウ 保健・医療費      エ 住居費

- (6) 下の図は、ある商品の需要曲線と供給曲線が実線で描かれている。均衡点はPである。では、テレビ番組でこの商品が健康に良いと紹介された場合、均衡点は下の図中のアとイのどちらに移動するか、正しいものを1つ選び、記号で答えなさい。



- (7) 家計や企業のあいだで、お金を貸し借りすることを金融という。金融には、間接金融と直接金融があるが、このうち間接金融に当てはまるものを、次のア～エから1つ選び、記号で答えなさい。

- ア 企業が株式を発行する      イ 企業が社債を発行する  
ウ 政府が株式を発行する      エ 銀行がお金を貸す

- (8) 次の文章中の□あ、□いに入る語句の組み合わせとして正しいものを、次のア～エから1つ選び、記号で答えなさい。

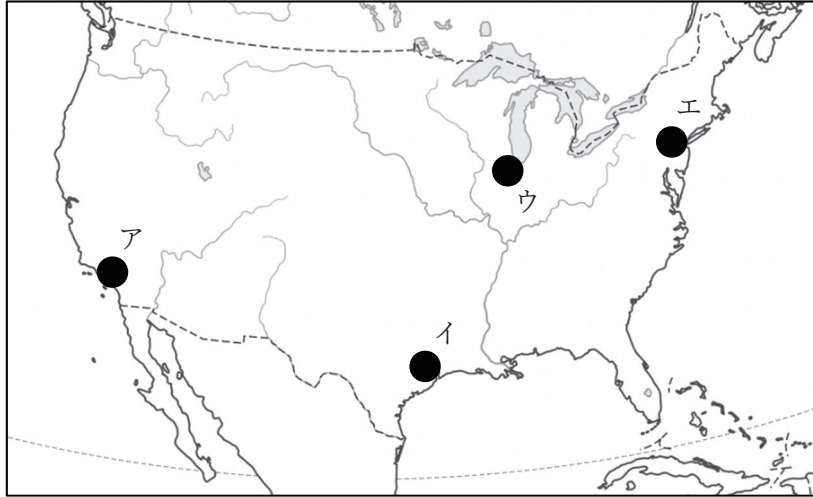
生産者の立場（自動車会社の場合）

日本でつくった自動車をアメリカに輸出すると、□あのほうが売れやすくなる。しかし、□あだと、日本で自動車をつくるために必要な原材料をアメリカから輸入するのにかかる費用が増える。また、アメリカに自動車工場を新たに建設する時は、□いのほうがかかる費用が少なくなる。

- ア □あ 円安   □い 円安      イ □あ 円安   □い 円高  
ウ □あ 円高   □い 円安      エ □あ 円高   □い 円高

6 次の(1)～(6)の各問いに答えなさい。

(1) 2025年1月7日、アメリカのロサンゼルス近郊に位置するパシフィックパリセーズで、山火が発生し、強風で火の手が広がった。では、ロサンゼルスの位置として一番近いものを、下の地図中のア～エから1つ選び、記号で答えなさい。



帝国書院ホームページより作成

(2) 2025年1月20日、の第47代大統領に共和党のドナルド・トランプ氏が就任し、3月14日、の第24代首相に自由党のマーク・カーニー党首が就任した。, に入る国名の組み合わせとして正しいものを、次のア～エから1つ選び、記号で答えなさい。

ア  フランス  インド      イ  フランス  カナダ  
ウ  アメリカ  インド      エ  アメリカ  カナダ

(3) 2025年4月13日、「いのち輝く未来社会のデザイン」をテーマに158の国と地域が参加する日本国際博覧会(略称「・関西万博」)が、市の人工島「夢洲」で開幕した。に入る都市名として正しいものを、次のア～エから1つ選び、記号で答えなさい。なお、には同じ都市名が入る。

ア 奈良      イ 神戸      ウ 堺      エ 大阪

(4) 2025年6月28日、和歌山県白浜町のテーマパークで飼育されていた4頭が、中国への返還のためテーマパークを出発した。に入る動物名として正しいものを、次のア～エから1つ選び、記号で答えなさい。

ア ジャイアントパンダ      イ ライオン      ウ ゾウ      エ キリン

(5) 2025年7月30日、厚生労働省は、男性の育児休業取得率が2024年度に $\square$ %になったと発表した。前年度を10.4ポイント上回り、過去最高を更新した。 $\square$ に入る数字として正しいものを、次のア～エから1つ選び、記号で答えなさい。

ア 10.5      イ 20.5      ウ 40.5      エ 80.5

(6) 2025年10月21日、自民党の $\square$ 総裁は、衆議院・参議院両院の本会議で第104代首相に指名された。女性の首相就任は初めてである。皇居での首相親任式と閣僚認証式を経て同日夜に $\square$ 内閣が発足した。 $\square$ に入る人物名として正しいものを、次のア～エから1つ選び、記号で答えなさい。なお、 $\square$ には同じ人物名が入る。

ア 片山 さつき      イ 高市 早苗      ウ 小野田 紀美      エ 小林 さやか